

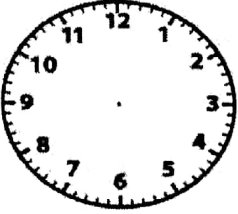





| | | |
|-------------------------|---|--------------------------|
| نام درس: ریاضی | باسمه تعالی وزارت آموزش و پرورش کارشناسی سنجش و ارزشیابی تحصیلی ابتدایی مدیریت آموزش و پرورش شهرستان بجنورد مدرسه ابتدایی غیردولتی علوم | تاریخ امتحان: ۱۴۰۱/۰۲/۳۱ |
| طراح سوال: سمانه منصوری | | مدت پاسخگویی: ۶۰ دقیقه |
| نام دبیر: سمانه منصوری | | پایه و رشته تحصیلی: دوم |
| نام و نام خانوادگی: | | تعداد صفحات: ۲ |
| تعداد سوالات: | | مهر مدرسه: |

| بارم | سوالات | ردیف | | | | | | |
|------|--|------|---|---|---|--|--|---|
| | <p>من چه عددی هستم که یکانم بزرگ ترین عدد یک رقمی و دهگانم کوچک ترین عدد یک رقمی و صدگانم ۳ تا از یکانم کمتر است. من را به حروف و رقم بنویس.</p> <p>رقم : حروف :</p> <table border="1" style="margin-left: auto; margin-right: auto;"> <tr> <td>ص</td> <td>د</td> <td>ی</td> </tr> <tr> <td> </td> <td> </td> <td> </td> </tr> </table> | ص | د | ی | | | | ۱ |
| ص | د | ی | | | | | | |
| | | | | | | | | |
| | <p>با کارت های <table border="1" style="display: inline-table; vertical-align: middle;"><tr><td>۹</td></tr></table> <table border="1" style="display: inline-table; vertical-align: middle;"><tr><td>۳</td></tr></table> <table border="1" style="display: inline-table; vertical-align: middle;"><tr><td>۶</td></tr></table> عددهای سه رقمی بساز که مجموع یکان و دهگان رقم صدگان شود.</p> <p>.....</p> | ۹ | ۳ | ۶ | ۲ | | | |
| ۹ | | | | | | | | |
| ۳ | | | | | | | | |
| ۶ | | | | | | | | |
| | <p>الگوها را ادامه بده.</p> <p>۱۱۴ - ۱۲۴ - ۱۳۴ - - - - ۴۸۰ - ۴۸۵ - ۴۹۰ - - - - ۱ - ۲ - ۵ - ۱۰ - -</p> | ۳ | | | | | | |
| | <p>زمان های نوشته شده زیر هر ساعت را با کشیدن عقربه نشان دهید.</p> <div style="display: flex; justify-content: space-around; align-items: center;"> <div style="text-align: center;">  <p>۳: ۳۷</p> </div> <div style="text-align: center;">  <p>دوازده و ربع</p> </div> <div style="text-align: center;">  <p>ده و نیم</p> </div> </div> | ۴ | | | | | | |
| | <p>تفاوت و شباهت شکل های زیر را بنویس.</p> <div style="display: flex; align-items: center;"> <div style="margin-right: 20px;">  </div> <div> <p>تفاوت :</p> <p>.....</p> <p>شباهت :</p> <p>.....</p> </div> </div> | ۵ | | | | | | |

| | | | | | | | | | | | | |
|-----|---|-----|---|-----|---|--|--|---|----|---|--|---|
| | <p>علامت مناسب < = > بگذار.</p> <p>۱۰ سانتی متر <input type="radio"/> ۹۶ میلی متر سی دقیقه <input type="radio"/> یک ربع</p> <p>$۷۵ + ۵۰ + ۵۰ + ۱۰۰ + ۱۰۰ + ۵۲۰$ <input type="radio"/> $۵۰۰ + ۲۰ + ۱۰۰ + ۲۰۰ + ۵۰ + ۵$</p> | ۶ | | | | | | | | | | |
| | <p>جمع و تفریق های زیر را به روش خواسته شده حل کن.</p> <p> $\begin{array}{r} ۶۸۳ \\ + ۱۶۸ \\ \hline \end{array}$ $\begin{array}{r} ۶۰۳ \\ - ۴۳۴ \\ \hline \end{array}$ </p> <p style="text-align: center;">انتقالی ←</p> <p> $۸۳ \rightarrow \dots$ $- ۳۷ \rightarrow \dots$ </p> <p> $۴۶ \rightarrow \dots$ $+ ۱۲ \rightarrow \dots$ </p> | ۷ | | | | | | | | | | |
| | <p>به اعداد زیر دقت کن و اعداد فرد و زوج را در جدول در جای مناسب قرار بده.</p> <p style="text-align: center;">$۲۲۳ - ۵۰ - ۲۹ - ۷۲ - ۵ - ۴۸ - ۳۶ - ۴ - ۳۰۵ - ۲۷ - ۱$</p> <table border="1" style="width: 100%; text-align: center;"> <tr> <td style="width: 25%;">زوج</td> <td style="width: 50%; height: 30px;"></td> <td style="width: 25%;">فرد</td> </tr> </table> | زوج | | فرد | ۸ | | | | | | | |
| زوج | | فرد | | | | | | | | | | |
| | <p>کامل کن.</p> <table style="width: 100%; text-align: center;"> <tr> <td style="border: 1px solid black; padding: 5px;">۱۹</td> <td style="font-size: 2em;">→</td> <td style="border: 1px solid black; padding: 5px;"> </td> <td style="font-size: 2em;">→</td> <td style="border: 1px solid black; padding: 5px;"> </td> </tr> <tr> <td style="border: 1px solid black; padding: 5px;"> </td> <td style="font-size: 2em;">→</td> <td style="border: 1px solid black; padding: 5px;">۲۵</td> <td style="font-size: 2em;">→</td> <td style="border: 1px solid black; padding: 5px;"> </td> </tr> </table> | ۱۹ | → | | → | | | → | ۲۵ | → | | ۹ |
| ۱۹ | → | | → | | | | | | | | | |
| | → | ۲۵ | → | | | | | | | | | |
| | <p>با توجه به شکل جملات را کامل کن.</p> <div style="display: flex; justify-content: space-around; align-items: center;"> <div style="text-align: center;">  <p>..... قسمت از قسمت صفحه رنگ نشده است.</p> </div> <div style="text-align: center;">  <p>..... تا تایی می شود تا تا تایی می شود تا</p> </div> </div> | ۱۰ | | | | | | | | | | |
| | <p>مسئله</p> <p>کتاب داستان من ۲۹۶ صفحه دارد ، اگر من شنبه ۹۸ صفحه و امروز ۷۶ صفحه از کتابم را بخوانم. چند صفحه ی دیگر مانده است که نخوانده ام ؟</p> | ۱۱ | | | | | | | | | | |

ششصد و نه

۶۰۹

۹۴۳

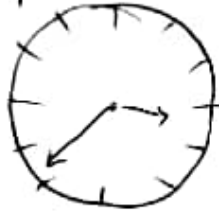
۹۳۶

۲
۲
۲

۱۴۴, ۱۵۴, ۱۶۴, ۱۷۴, ۱۸۴, ۱۹۴

۴۹۵, ۵۰۰, ۵۰۵, ۵۱۰, ۵۱۵, ۵۲۰

۱۷, ۲۶



۴

۵ تفاوت؟ مستطیل چه ضلع برابر نیستند

تفاوت: هر دو یک گوشه و ۴ ضلع دارند.

سی آهتد ککیر ربع

۶ ۱۰ سانی تر ۹۶ مبر مبر

$$\begin{array}{r} 148 \\ + 148 \\ \hline 296 \end{array}$$

$$\begin{array}{r} 403 \\ - 224 \\ \hline 179 \end{array}$$

$$\begin{array}{r} 80 \\ - 40 \\ \hline 40 \end{array}$$

$$\begin{array}{r} 50 \\ + 10 \\ \hline 60 \end{array}$$

۱
۴
۴۹, ۴۸, ۷۲, ۵۰ = شرح

۱, ۲۷, ۲۰۵, ۲۹, ۲۲۲ = قدر

$$\begin{array}{r} 19 \\ + 4 \\ \hline 23 \end{array} \quad \begin{array}{r} 23 \\ - 3 \\ \hline 20 \end{array}$$

$$\begin{array}{r} 21 \\ + 4 \\ \hline 25 \end{array} \quad \begin{array}{r} 25 \\ - 3 \\ \hline 22 \end{array}$$

۳ تا ۴ تا ۵ تا ۶ تا ۷ تا ۸ تا ۹ تا ۱۰ تا
۴ تا ۳ تا ۲ تا ۱ تا ۰ تا ۱ تا ۲ تا ۳ تا ۴ تا ۵ تا ۶ تا ۷ تا ۸ تا ۹ تا

۱۰ آهتد از ۶ است

$$\begin{array}{r} 98 \\ + 74 \\ \hline 172 \end{array}$$

$$\begin{array}{r} 296 \\ - 174 \\ \hline 122 \end{array}$$